



NMM 6. Klasse Geographie



Gewässer der Schweiz

Lernziele:

- Du kennst die wichtigsten Seen der Schweiz (Liste Seite 1)
- Du kennst die wichtigsten Ortschaften an Seen (Seite 2)
- Du weißt, welche Flüsse durch Seen und Ortschaften fließen (Seite 3)
- Du kennst die wichtigsten Flüsse (Seite 4)
- Du weißt, in welchen Ländern / Kantonen die Seen liegen
- Du kannst Seen / Ortschaften an Seen auf der Schweizer Karte ungefähr einzeichnen

Zum Lernen:

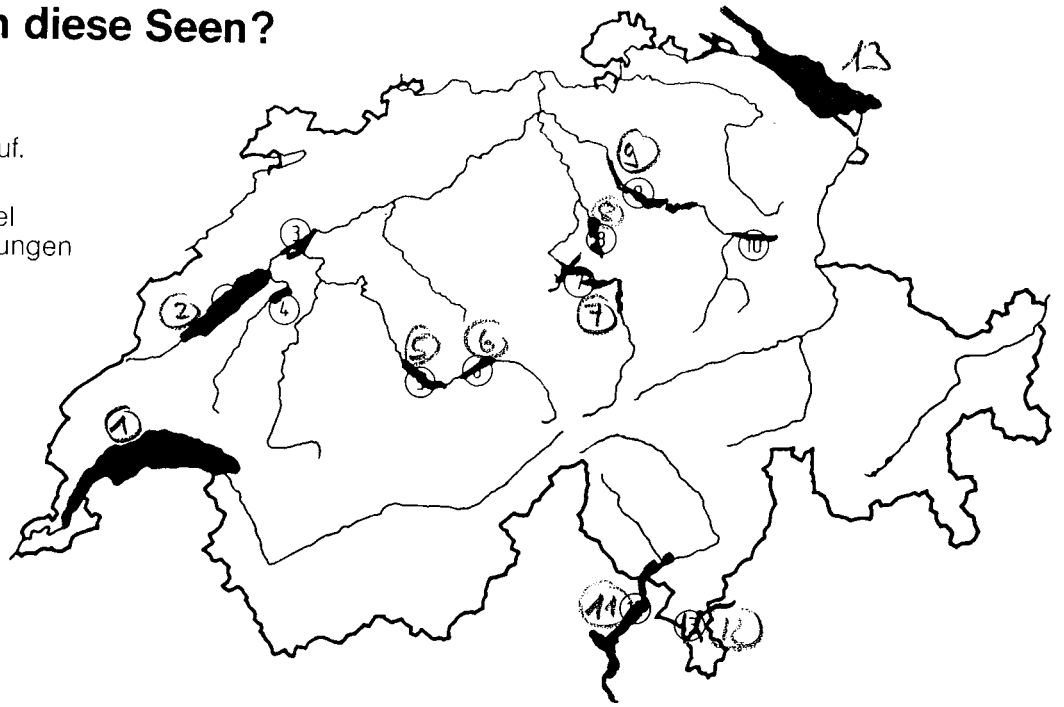
- Übungen im Dossier
- Übungsprobe im Dossier
- Übungen im Internet.
- Zusätzliche Blätter können im Internet bezogen werden.

Lernzielkontrolle: Mittwoch, 11. Mai

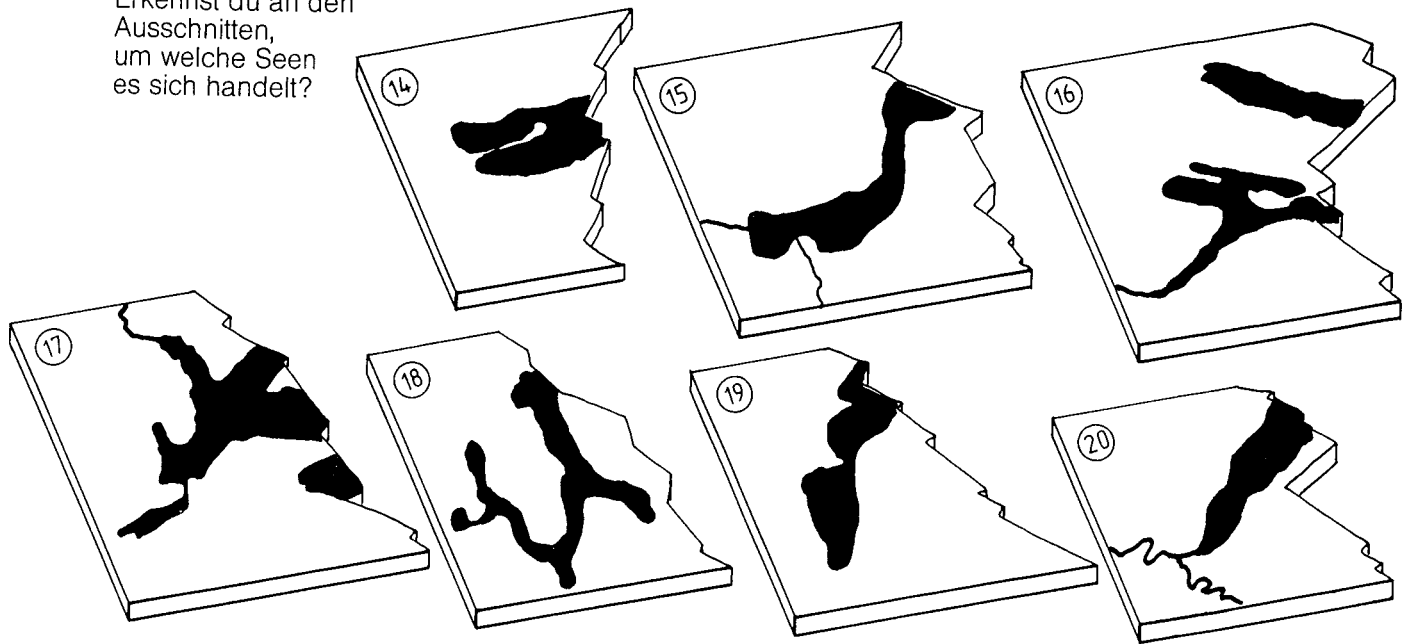
Wie heissen diese Seen?

Schreibe die
Namen der Seen auf.

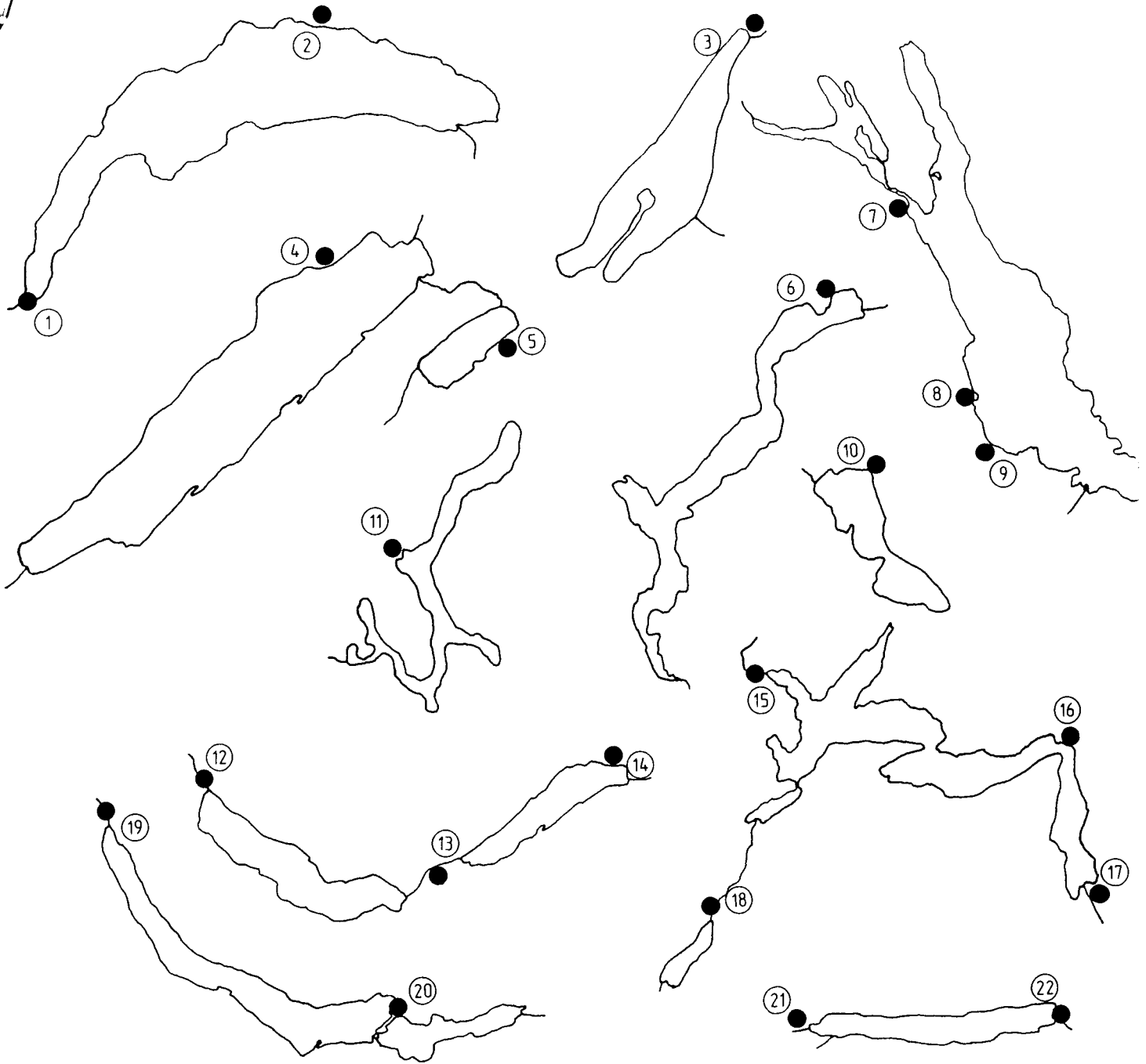
Prüfe nachher
im Lösungsschlüssel
nach, ob deine Lösungen
stimmen.



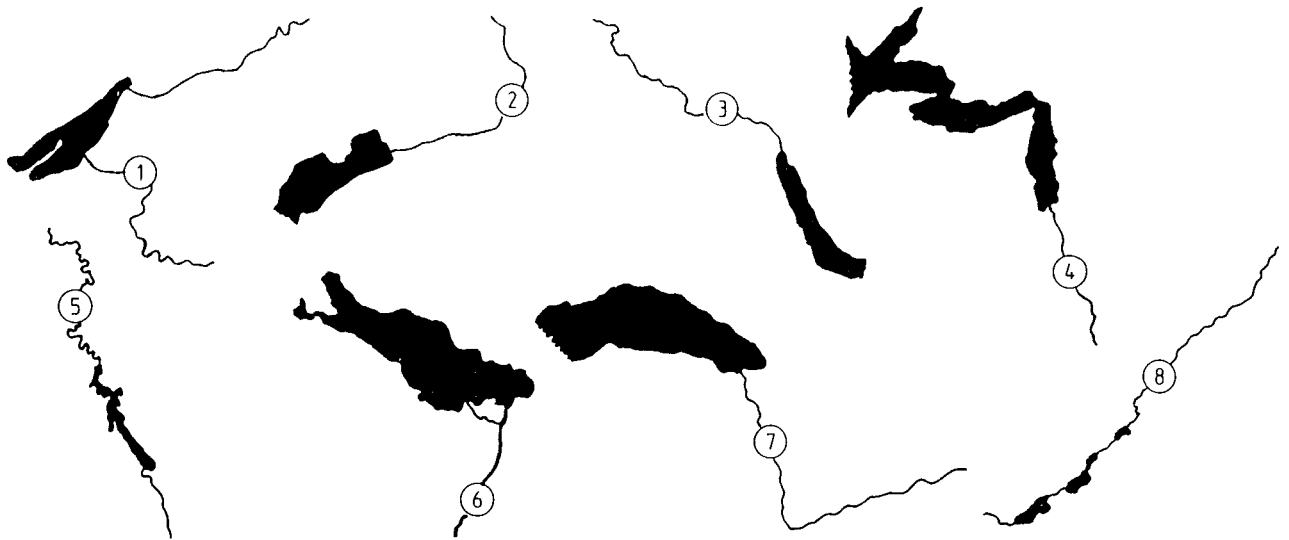
Erkennst du an den
Ausschnitten,
um welche Seen
es sich handelt?



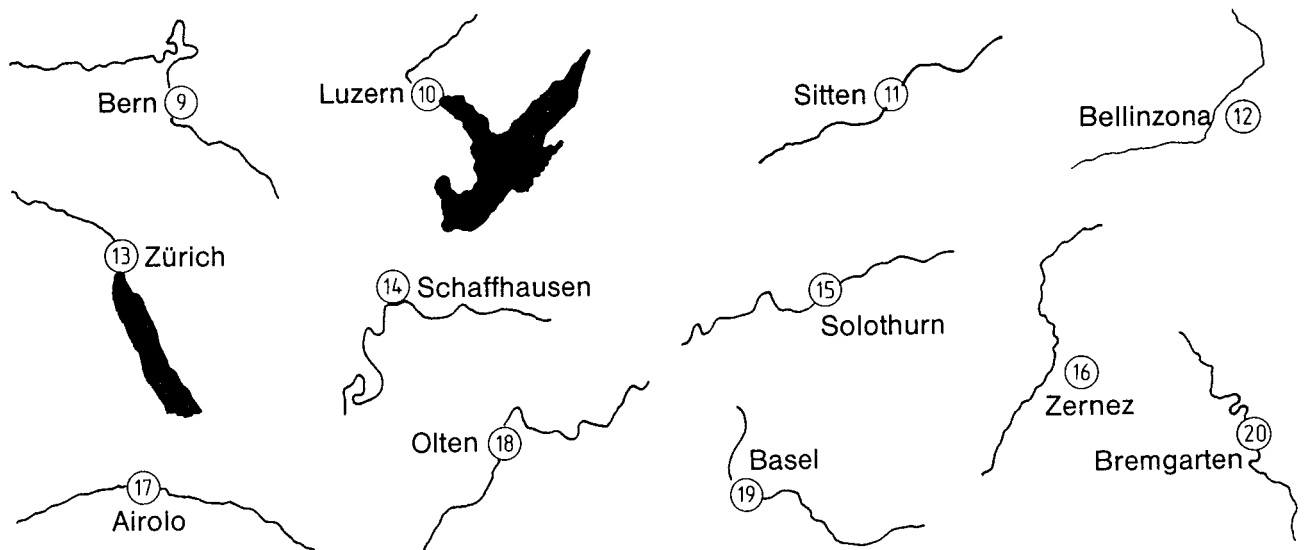
Wie heissen die Orte an diesen Seen?



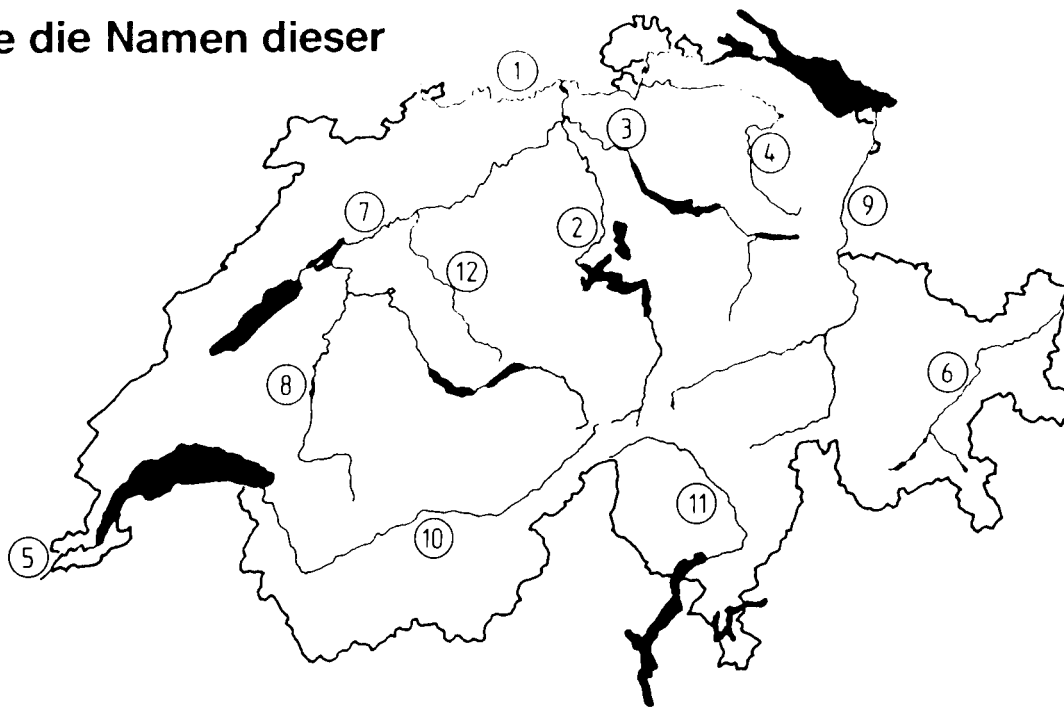
Wie heissen diese Zu- und Abflüsse?



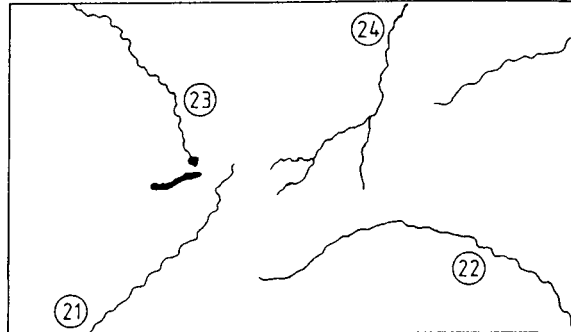
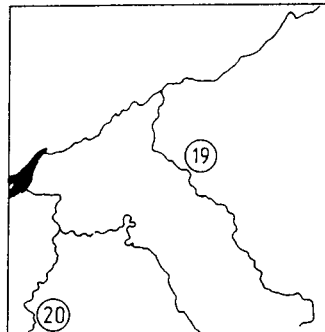
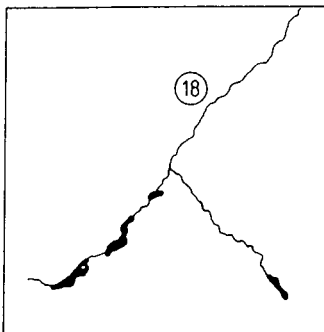
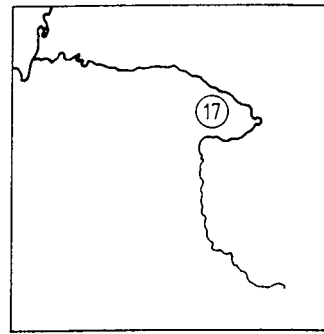
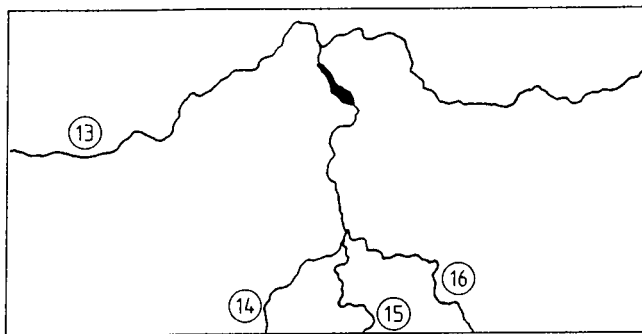
Welche Flüsse fliessen durch diese Orte?



Bestimme die Namen dieser Flüsse



Erkennt du die Flüsse auch auf diesen Kartenausschnitten?



Kennst du nun die wichtigsten Gewässer?

Durch welchen See fließen diese Flüsse?

- | | | | |
|------------------|----------------------|----------------------|------------------|
| 1 Aare | 2 Reuss | 3 Tessin (Ticino) | 4 Broye |
| F Neuenburgersee | F Zugersee | F Langensee | F Bielersee |
| G Bielersee | G Vierwaldstättersee | G Vierwaldstättersee | G Neuenburgersee |
| H Murtensee | H Brienersee | H Luganersee | H Murtensee |

Welcher Fluss mündet in die Aare?

- | | | |
|----------|---------|---------|
| 5 | 6 | 7 |
| F Rhone | F Birs | F Emme |
| G Limmat | G Saane | G Doubs |
| H Inn | H Broye | H Thur |

Viele Kantonshauptstädte liegen an den Ufern eines Sees. An welchem See liegt keine Kantonshauptstadt?

- | | | | |
|------------------|----------------------|------------------|----------------------|
| 8 | 9 | 10 | 11 |
| F Genfersee | F Zürichsee | F Zugersee | F Bielersee |
| G Neuenburgersee | G Vierwaldstättersee | G Walensee | G Vierwaldstättersee |
| H Bodensee | H Langensee | H Neuenburgersee | H Genfersee |

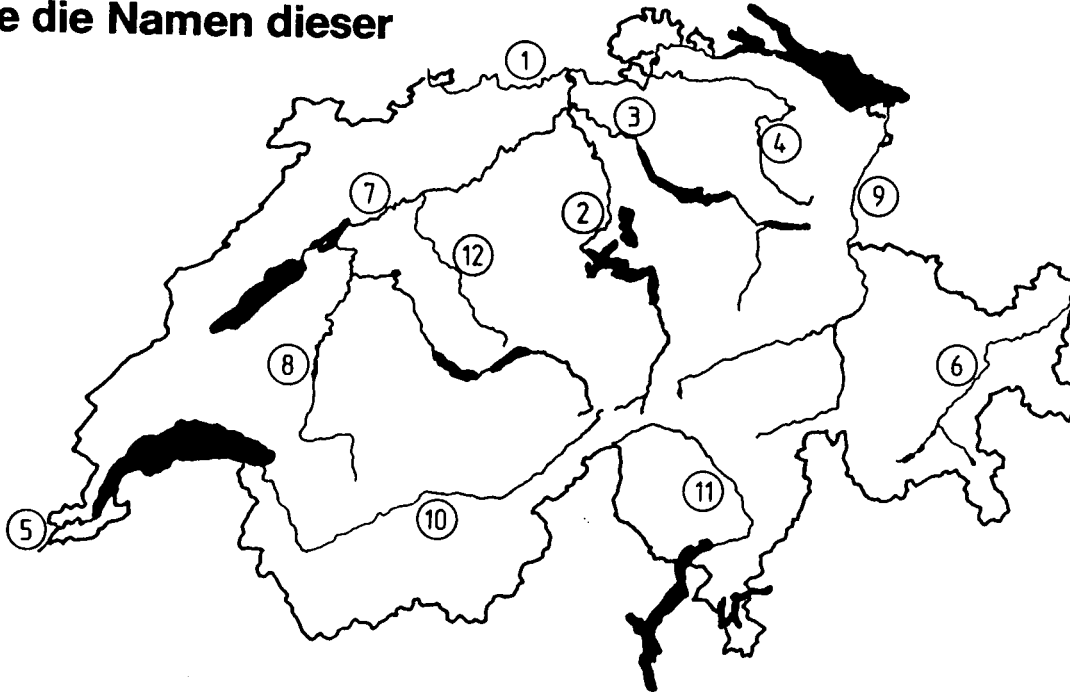
In welchen Fluss oder See münden diese Flüsse?

- | | | | |
|----------------------|-------------|----------|-----------|
| 12 Emme | 13 Saane | 14 Reuss | 15 Limmat |
| F Aare | F Murtensee | F Rhein | F Aare |
| G Vierwaldstättersee | G Aare | G Limmat | G Rhein |
| H Reuss | H Bielersee | H Aare | H Reuss |

Welcher Kanton hat keinen Anteil an diesen Seen?

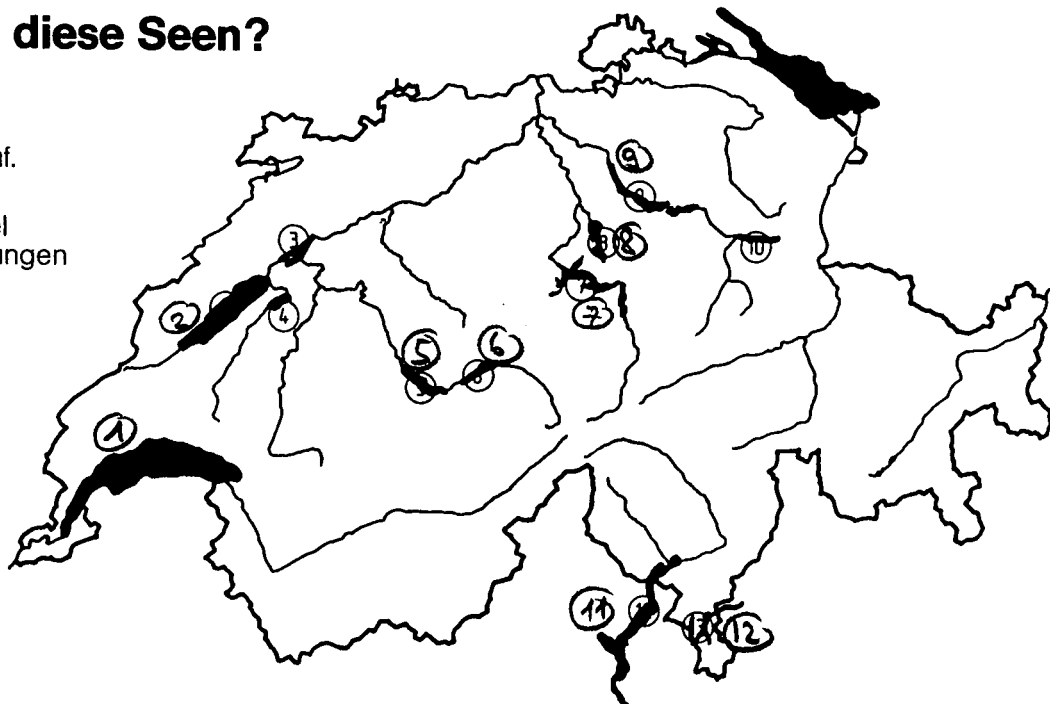
- | | | | |
|--------------|--------------|--------------|--------------|
| 16 Genfersee | 17 Zürichsee | 18 Bielersee | 19 Walensee |
| F Waadt | F Zug | F Bern | F Schwyz |
| G Freiburg | G St. Gallen | G Neuenburg | G Glarus |
| H Wallis | H Schwyz | H Freiburg | H St. Gallen |

Bestimme die Namen dieser Flüsse



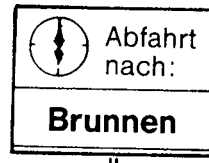

Wie heissen diese Seen?

Schreibe die Namen der Seen auf.
Prüfe nachher im Lösungsschlüssel nach, ob deine Lösungen stimmen.

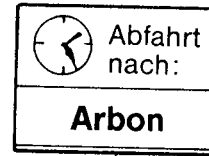


Seen und Schiffstationen


An welchen Seen stehen diese Anzeigetafeln?



①



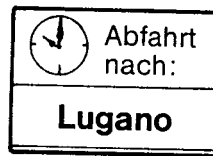
②



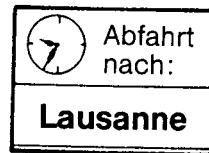
③



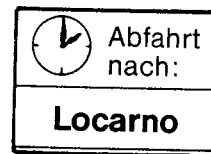
④



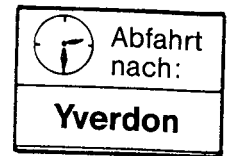
⑤



⑥











⑦



⑧

Wie heissen diese Seen?

Die Fähnchen zeigen dir, welche Kantone an diesen Seen Anteil haben.



NMM – Probe Seen 1

Name		Punkte		Note	

1. Beschrifte auf der Karte auf der Rückseite die Seen mit den richtigen Nummern.

- | | | |
|--------------|-------------|-------------|
| 1 Brienersee | 2 Walensee | 3 Langensee |
| 4 Thunersee | 5 Lac Léman | 6 Zürichsee |
| 7 Murtensee | 8 Bielersee | 9 Zugersee |
| 10 Bodensee | | |

2. Zeichne folgende Orte auf der Karte ein.

- | | | |
|-------------|--------------|-----------|
| A Lausanne | B Interlaken | C Locarno |
| D Neuenburg | E Genf | F Flüelen |

3. Kleine Fragen

Welches ist der grösste See, der ganz in der Schweiz liegt?	
In welchen Ländern liegt der Bodensee?	
Welcher See ist mit dem Begriff „Meer der Innerschweiz“ gemeint?	
In welchen Ländern liegt der Luganersee?	
Durch welchen See fliesst die Rhone?	
Welcher See liegt höher. Thunersee oder Brienersee?	

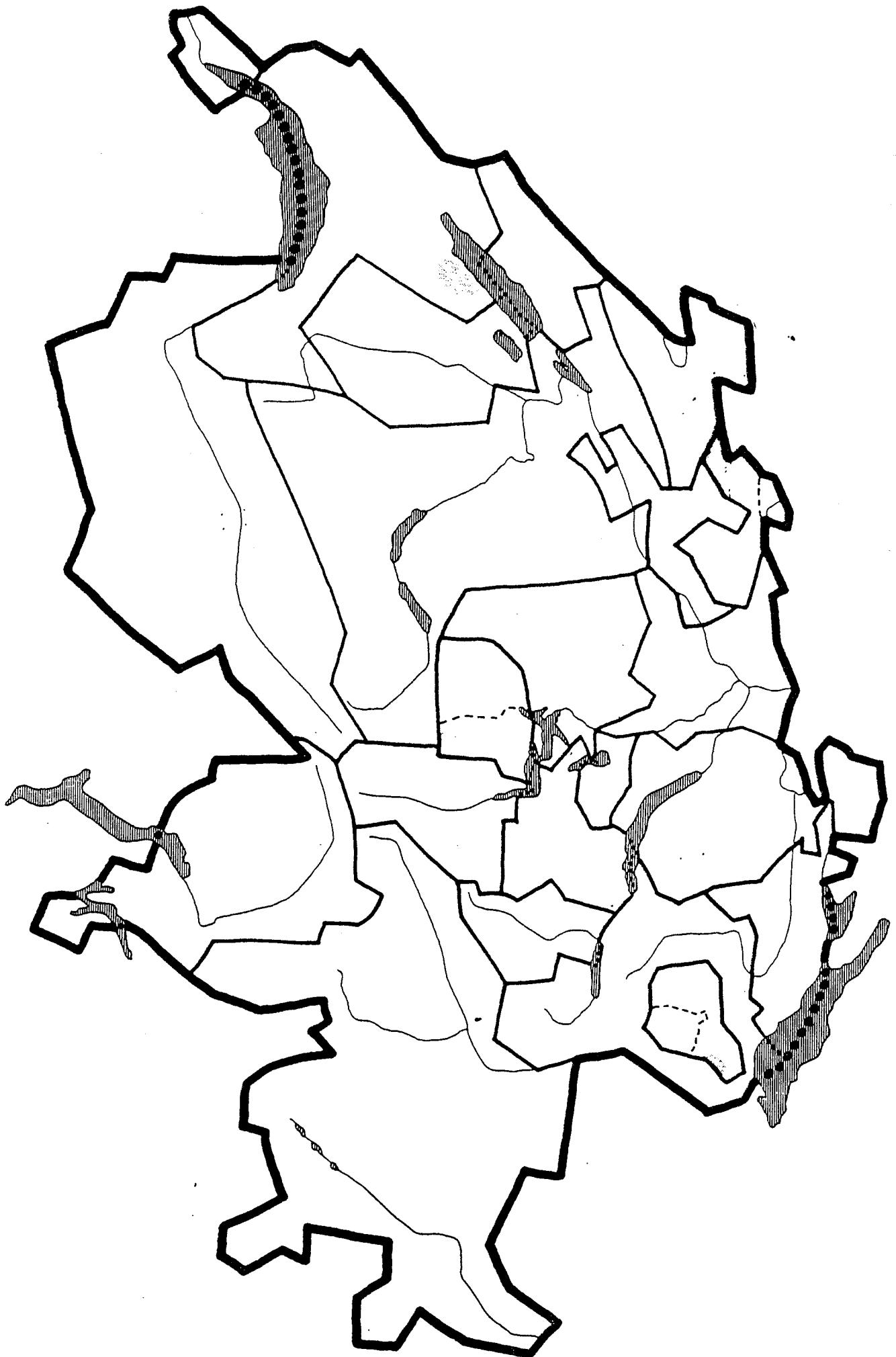
4. Beantworte mit Hilfe der Kantonskarte auf der Vorderseite.

In welchen Kantonen liegt der Neuenburgersee?	
In welchem Kanton liegt der Lago Maggiore?	

5. Kreuze alle Seen an, die ganz oder teilweise im Kanton Bern liegen.

- Vierwaldstättersee
- Neuenburgersee
- Zugersee
- Bielersee
- Thunersee

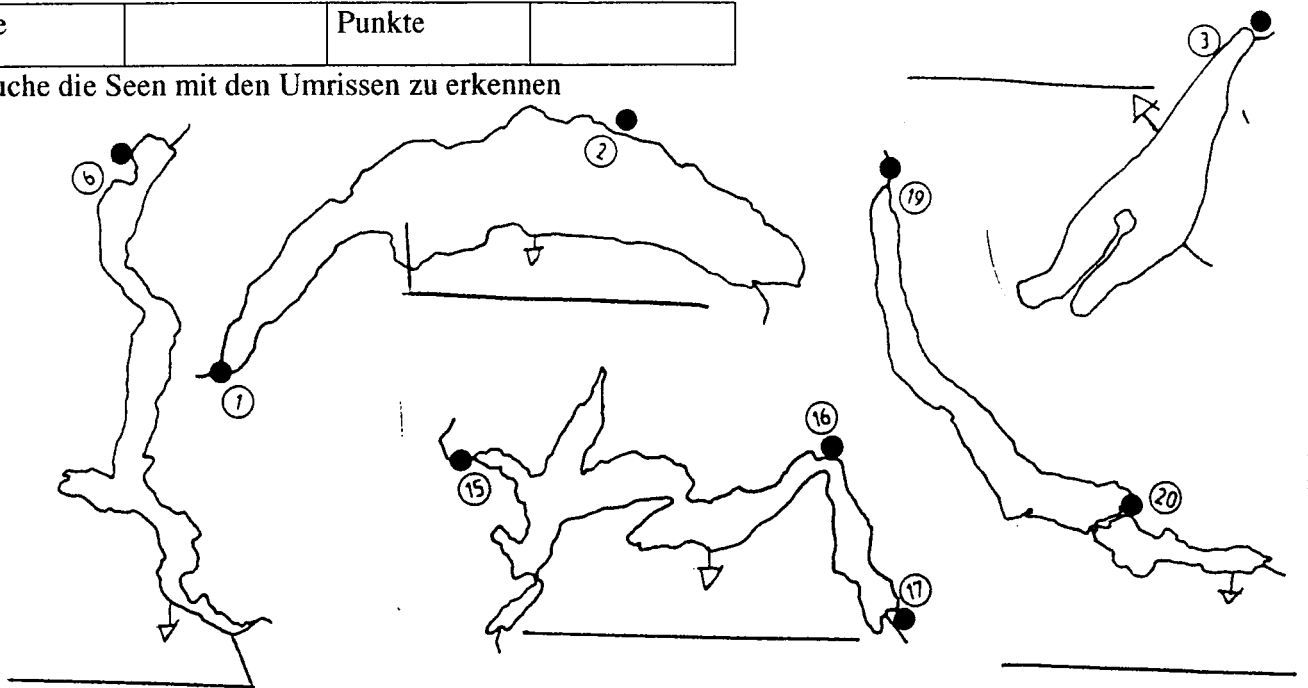
6. Welcher See fehlt in Nr. 5, der auch im Kanton Bern liegt? _____



NMM – Probe Seen 2

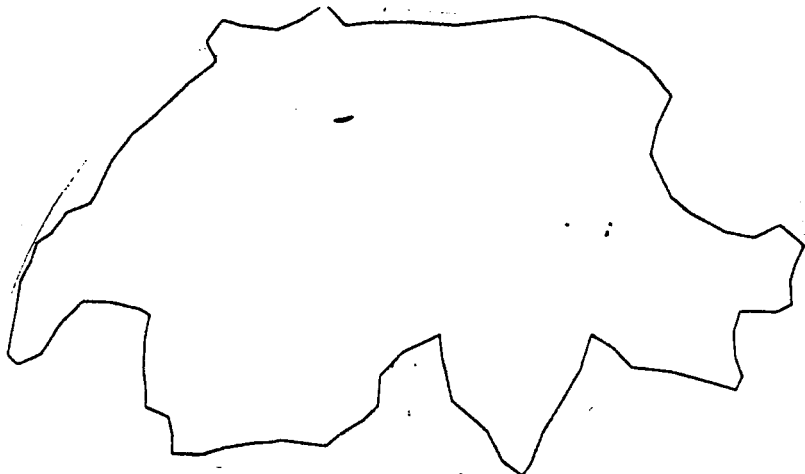
Name		Punkte	
------	--	--------	--

Versuche die Seen mit den Umrissen zu erkennen



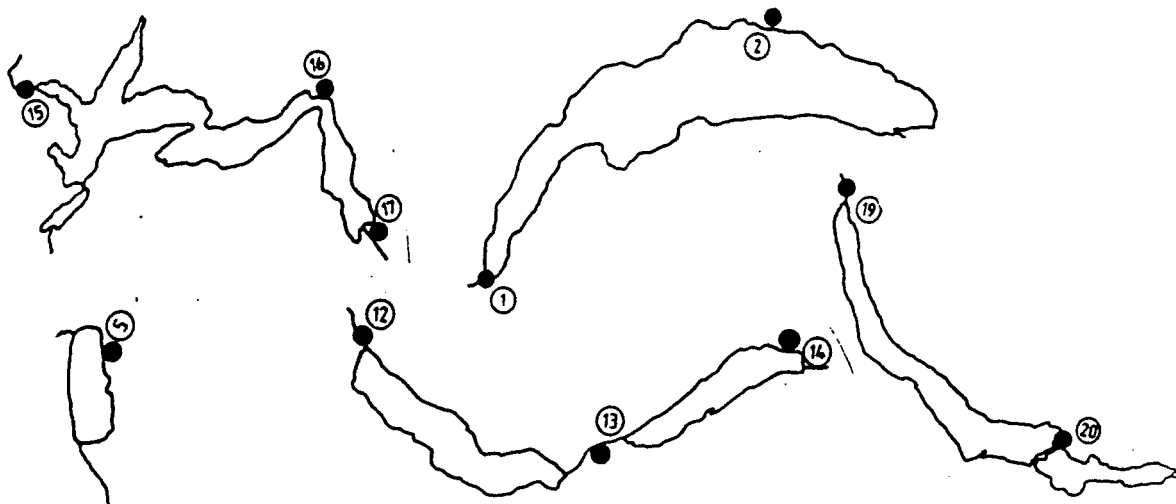
Zeichne folgende Seen auf der Schweizerkarte ein

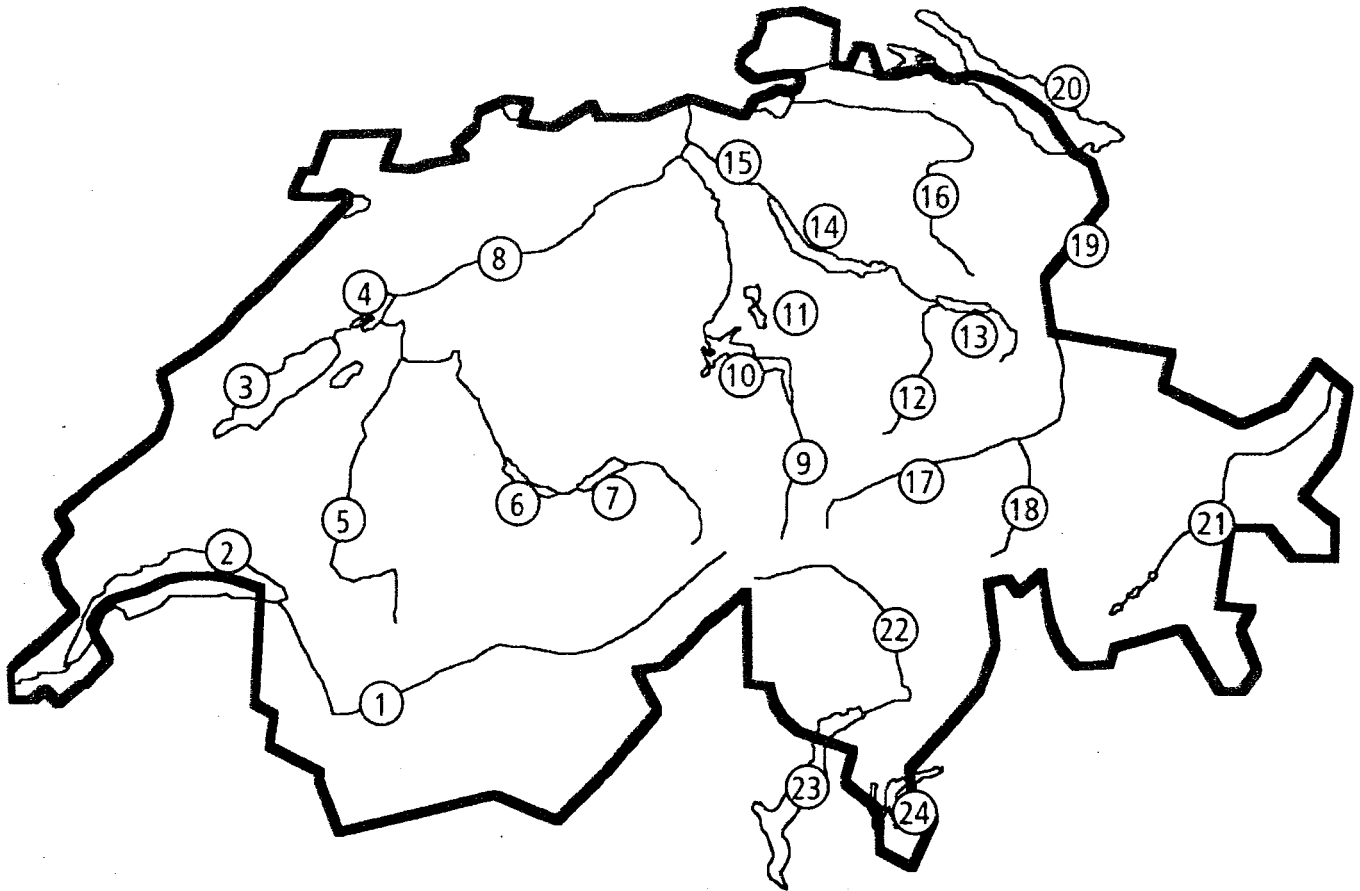
- a) Bodensee b) Neuenburgersee c) Vierwaldstättersee d) Luganersee



Wie heissen die Orte an diesen Seen?

2		12 13		16
5		14		19
12		15		20






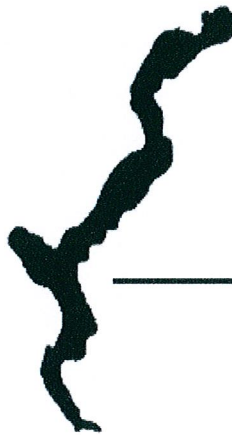

- 1 _____
- 2 _____
- 3 _____
- 4 _____
- 5 _____
- 6 _____
- 7 _____
- 8 _____
- 9 _____
- 10 _____
- 11 _____
- 12 _____

- 13 _____
- 14 _____
- 15 _____
- 16 _____
- 17 _____
- 18 _____
- 19 _____
- 20 _____
- 21 _____
- 22 _____
- 23 _____
- 24 _____

Ein See in der Nähe des Neuenburgersees hat keine Nummer. Wie heisst er?

Kennst du die Umrissse der Seen?

Vorsicht: Die Grössenverhältnisse stimmen nicht!



Die wichtigsten Gewässer

Löse das Kreuzworträtsel mit Hilfe einer Schweizerkarte (ä=AE, ü=UE)

